



# GEOGRAPHY EXAMINATION

முதலாம் தவணைப் பரீட்சை - மாதிரி வினாத்தாள்  
First Term Examination - Model Paper

தரம்  
06

புவியியல் I,II  
Geography I,II

இரண்டு மணித்தியாலம்  
Two hours

**ஆசிரியர்: ஏ.கஜன் B.A Tamil**

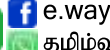


077 2400 707 / 076 8044 959



மல்லாவிக்க கஜன்  
(ஆதித்தியன்)

Group



e.way

தமிழ் வழி

**தமிழ்**

இனிது கல்வி நிலையம்  
பாலிநகர், வவுனிக்குளம்

**புவியியல்**

ACCOUNTING WORLD  
2ஆம் குறுக்கு வீதி, மல்லாவி

புவியியல், தமிழ் பிரத்தியேக வகுப்புகள்

அறிவுறுத்தல்கள்:

சுட்டெண்: .....

- \* இவ் வினாத்தாள் பகுதி I, பகுதி II என இரண்டு பகுதிகளைக் கொண்டது.
- \* பகுதி I இற்கான விடைகள் இவ் வினாத்தாளிலேயே எழுதப்படுதல் வேண்டும். ஒவ்வொரு சரியான விடைக்கும் இரண்டு புள்ளிகள் வீதம் வழங்கப்படும்.
- \* பென்சிலால் எழுதப்படும் விடைகளுக்குப் புள்ளிகள் வழங்கப்படமாட்டாது.
- \* அறிவுறுத்தலுக்கு அமைவாகப் பகுதி I மற்றும் பகுதி II வினாக்களுக்கு விடையளிக்கുക.

பகுதி I மொத்தப் புள்ளிகள்

பகுதி II மொத்தப் புள்ளிகள்

இறுதிப் புள்ளிகள்

100

## பகுதி / Part - I

- \* 1 – 5 வரையான ஒவ்வொரு வினாக்களிலும் சரியான அல்லது மிகப் பொருத்தமான விடையைத் தெரிவு செய்து, அதன் கீழ்க் கோடிடுக.

1. வெப்பத்தை வழங்குகின்ற பிரதான இயற்கை ஒளி முதல்.

(1) சந்திரன்

(2) மின்சாரம்

(3) விண்மீன்

(4) சூரியன்

2. அருகில் படத்தில் காட்டப்பட்டுள்ள உபகரணத்தினைப் பயன்படுத்தி அளவிடப்படுவது.

(1) வெப்பநிலை

(2) மழைவீழ்ச்சி

(3) காற்றின் வேகம்

(4) மூடுபனி



3. இலங்கையின் வடக்கு மாகாணத்திற்கு உரித்தற்ற மாவட்டமாக அமைவது.

(1) யாழ்ப்பாணம்

(2) காலி

(3) கிளிநொச்சி

(4) முல்லைத்தீவு

4. அதிக மழைப்பொழிவு காரணமாக ஏற்படவல்ல பிரதான அனர்த்தமாக அமைவது.

(1) மண்சரிவு

(2) வெள்ளப்பெருக்கு

(3) வரட்சி

(4) மின்னல்

5. பின்வருவனவற்றுள், பயிர்களை நாசம் செய்யும் நத்தைகளை அழிக்கும் இயல்புடைய உயிர்வகை.

(1) தும்பி

(2) மண்புழு

(3) கறையான்

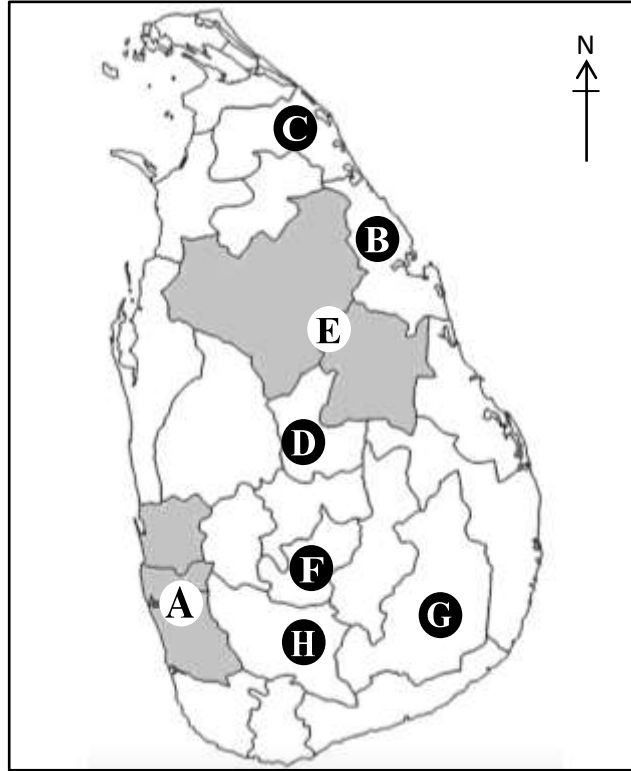
(4) செண்பகம்

- \* 6 – 10 வரையான வினாக்களின் இடைவெளிகளுக்குப் பொருத்தமான விடையினை, அடைப்பினுள் இருந்து தெரிந்தெடுத்து புள்ளிக் கோட்டின் மேலே எழுதுக.

6. பாடசாலை அமைந்துள்ள மிகச் சிறிய நிர்வாக அலகு.....ஆகும்.

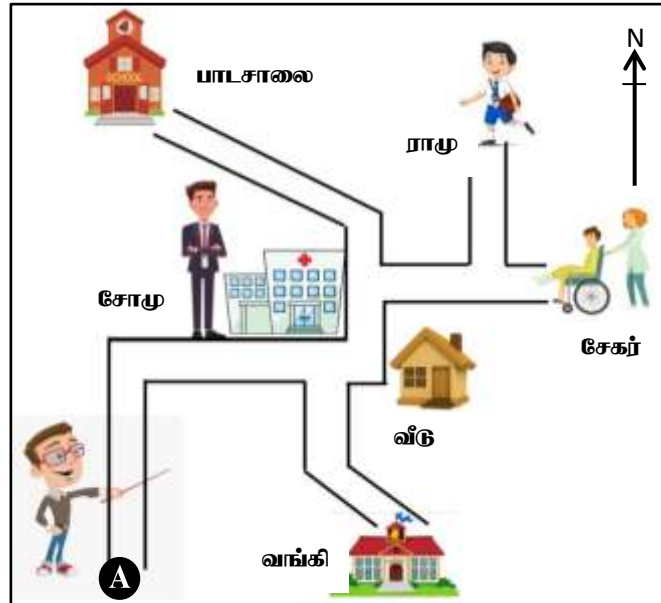
(கிராம உத்தியோகத்தர் பிரிவு / பிரதேச செயலாளர் பிரிவு / மாவட்டச் செயலாளர் பிரிவு)





(12 புள்ளிகள்)

02. கீழே தரப்பட்டுள்ள வரைபடத்தை அடிப்படையாகக் கொண்டு, அதன் கீழுள்ள வினாக்களுக்கு விடையளிக்குக.



- 1) வைத்தியசாலைக்கு அருகிலுள்ள சோமு, தனது மகனை அழைத்து வருதற்காகப் பாடசாலைக்குச் செல்ல வேண்டியுள்ளது. சோமுவிருகு எத் திசையில் பாடசாலை அமைந்துள்ளது?
- 2) அங்கவீனமுற்ற நிலையிலிருக்கும் சேகர், வைத்தியசாலைக்கு வருகை தரவேண்டுமாயின், வரைபடத்தின் எப் பகுதிக்கு இடம்பெயர்தல் வேண்டும்?
- 3) ராமு, தனது வீட்டிற்குச் செல்ல எத்திசையில் பயணிக்க வேண்டும்?
- 4) A என்ற நபருக்கு எத்திசையில் வங்கி அமைந்துள்ளது?
- 5) வீட்டிற்கு எத் திசையில் A என்ற நபர் தரித்து நிற்கின்றார்?
- 6) பாடசாலைக்குத் எத்திசையில் ராமு நிற்கின்றான்?

(12 புள்ளிகள்)

